

# El proyecto Eratóstenes en Argentina

*Versión 2009. Año Internacional de la Astronomía.*

## 21 de junio de 2009

Una propuesta<sup>1</sup> del Departamento de Física de la Facultad de Ciencias Exactas y Naturales de la Universidad de Buenos Aires, de la Asociación Física Argentina y del Nodo Nacional Argentino del Año Internacional de la Astronomía 2009.



## Objetivos

- Describir la geometría de cómo los rayos del Sol inciden sobre la Tierra a distintas latitudes.
- Describir cómo el perímetro de la Tierra fue medido por primera vez miles de años atrás.
- Describir cómo determinar cuándo es el mediodía en el lugar donde uno vive.
- Medir el ángulo que forman los rayos del sol con la vertical en un dado lugar al mediodía solar.
- Calcular el radio terrestre.
- Formar parte de un proyecto colectivo, en el cual, con el aporte de varios grupos, se puede alcanzar un objetivo (en este caso, medir el radio de la Tierra).

---

<sup>1</sup> En parte, una adaptación para la Argentina del proyecto **WYP Eratosthenes Project** <http://www.physics2005.org/events/eratosthenes/> organizado en Estados Unidos en ocasión del Año Internacional de la Física 2005.

## Metodología.

Cada cálculo del radio terrestre demanda, al menos, dos escuelas que midan en cada una de sus locaciones geográficas, preferentemente, de manera simultánea.

Una vez acreditadas todas las escuelas participantes en el Proyecto, caracterizadas principalmente por sus coordenadas geográficas, la Coordinación del Proyecto propondrá una distribución de pares<sup>2</sup> de escuelas asociadas para medir simultáneamente, intercambiarse los resultados de la medición, calcular un valor común del radio terrestre y hacer todos los contactos interinstitucionales posibles.

La asignación de la escuela socia, por parte de la Coordinación, seguirá criterios de optimización<sup>3</sup> de la distribución de las locaciones en todo el territorio argentino. Una vez que la Coordinación asigne su socia a cada escuela, éstas deberán ponerse de acuerdo en el día de la medición (preferentemente el 21/06/09 o un par de días antes o después, en función del calendario escolar y de la proyección de las condiciones climáticas en una o en las dos escuelas socias), en el método y la configuración experimental, los criterios para estimar errores de medición, el trabajo de los grupos, el método para determinar el mediodía solar y todos los otros variados aspectos que surjan del contacto.

Las mediciones de las escuelas socias deberán hacerse en el momento del mediodía solar en las locaciones de cada una de ellas. Esto se produce cuando el Sol pasa por el plano que contiene al meridiano de la locación de la escuela o cuando las sombras solares de cualquier objeto son mínimas. Existen tablas que indican a qué hora local se produce el tránsito solar (no siempre es a las 12.00 o las 13.00hs.) o bien se puede determinar experimentalmente midiendo sombras a intervalos de regulares de tiempo en días previos a la medición.

Lo que se mide en forma directa es la sombra de una varilla vertical a plomada (clavada en el piso, suspendida o montada sobre una base nivelada) y la longitud de ésta. Ambos datos permiten calcular la inclinación de los rayos solares al mediodía solar de ese día. Disponer del valor análogo en la locación de la escuela socia, es lo que permite calcular el valor del radio terrestre, si se conoce la distancia que hay entre ambas (o la distancia entre los paralelos que pasan por cada una de ellas, en caso de no encontrarse alineadas en un mismo meridiano).

---

<sup>2</sup> Adicionalmente a los pares podrá haber escuelas que medirán asociadas a varias otras escuelas.

<sup>3</sup> Maximizar la componente Norte-Sur y minimizar la componente Este-Óeste de las distancias entre las locaciones de las escuelas socias. O sea favorecer que las mediciones de las cuales se inferirá el radio terrestre, se realicen entre escuelas lo más alineadas posibles en un mismo meridiano y de paralelos lo más alejados posibles.

Cada escuela reportará a la Coordinación por Internet sus mediciones y resultados, de modo que, tanto por esa vía como por el contacto directo, también podrá conocer las mediciones y resultados de su socia, lo cual permitirá a ambas calcular el valor del radio terrestre propio de ese par.

Todos los radios que surjan de los diferentes pares integrarán una base estadística de la cuál surgirá un resultado representativo de todas las escuelas participantes del proyecto.

### **Materiales sugeridos**

- Plomada
- nivel
- metro de carpintero
- hilo de albañilería
- hilo sisal
- escuadra
- transportador
- cinta adhesiva
- reloj con cronómetro
- chinchas
- estacas
- hojas de cartulina,
- planchas de cartón, telgopor o madera
- hojas de papel en blanco
- lápiz
- imaginación para proponer una configuración experimental en función de los materiales disponibles y del entorno local del experimento.

## ¿Cómo participar en el 2009?

A todos los docentes interesados en que sus cursos participen del proyecto se les recomienda comenzar analizando la información relacionada con el Proyecto Eratóstenes 2008 en el sitio web [www.df.uba.ar](http://www.df.uba.ar) por el enlace del icono:



La inscripción de las escuelas participantes se hará a través de las páginas web de las instituciones organizadoras entre abril y mayo del 2009.

### Consultas

[eratostenes@df.uba.ar](mailto:eratostenes@df.uba.ar)

#### **Comité organizador:**

Dra. Victoria Bekeris (DF, FCEyN, UBA)

Dra. Beatriz García (AIA 2009)

Dr. Guillermo Mattei (DF, FCEyN, UBA)

Dr. Diego Mazzitelli (DF, FCEyN, UBA)

Dra. Silvina Ponce Dawson (DF, FCEyN, UBA)

Dr. Francisco Tamarit (AFA)

Dr. Jorge Zgrablich (AFA)

Comisión Directiva AFA

**Departamento de Física de la Facultad de Ciencias Exactas y Naturales  
de la Universidad de Buenos Aires**

**[www.df.uba.ar](http://www.df.uba.ar)**

[difusion@df.uba.ar](mailto:difusion@df.uba.ar)

**Nodo Nacional Argentino del Año Internacional de la Astronomía 2009**

**[www.astronomia2009.org.ar](http://www.astronomia2009.org.ar)**

[aia2009.argentina@gmail.com](mailto:aia2009.argentina@gmail.com)

**Asociación Física Argentina**

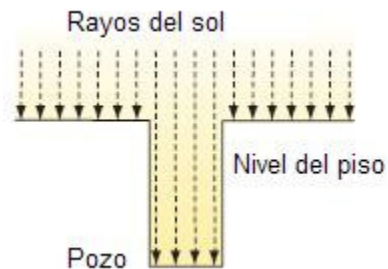
**[www.fisica.org.ar](http://www.fisica.org.ar)**

[afa@df.uba.ar](mailto:afa@df.uba.ar)

En esta actividad vas a trabajar en colaboración con estudiantes de otra escuela para medir el radio de la Tierra. Vas a usar los mismos métodos y principios que Eratóstenes usó hace más de dos mil años.

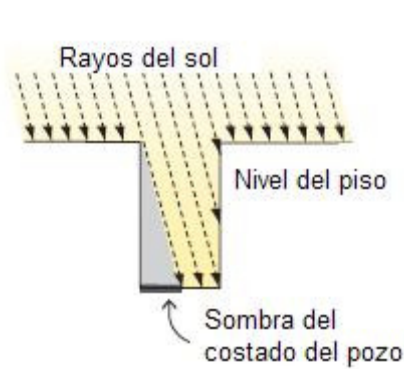


Eratóstenes fue un griego que vivió en Alejandría, Egipto, en el siglo III A.C. Sabía que un día determinado, al mediodía, en Siena (Syene en el mapa, actualmente Aswan), una ciudad ubicada a una distancia considerable de Alejandría hacia el sur, la luz del sol entraba de forma totalmente vertical dentro de un pozo profundo. Esta observación significaba que el sol se encontraba exactamente sobre la ciudad de Siena, como se muestra en la Figura 1. Eratóstenes también sabía que mientras que esto ocurría en Siena, no sucedía lo mismo en Alejandría (ver Figura 2). Noten que en ambas figuras los rayos del sol son todos paralelos entre sí.



*Figura 1:*  
*Los rayos del sol entran de modo perfectamente vertical dentro del pozo ubicado en Siena, cuando el sol está exactamente sobre esta ciudad (el 21 de junio al mediodía). En ese momento, las paredes no proyectan sombra alguna.*

<sup>4</sup> Adaptación para la Argentina del proyecto **WYP Eratosthenes Project** <http://www.physics2005.org/events/eratosthenes/> organizado en Estados Unidos en ocasión del año internacional de la física 2005.

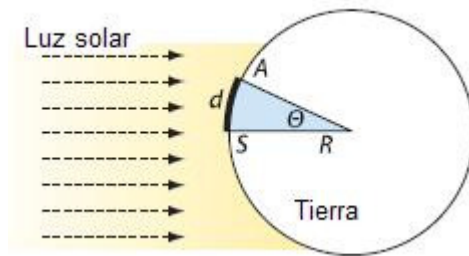


*Figura 2: En el mismo momento que en Siena los rayos del sol entran al pozo como en la Figura 1, en Alejandría los rayos entran formando un ángulo con la vertical. Acá el sol no está directamente sobre la ciudad y las paredes proyectan cierta sombra (que en el dibujo está exagerada).*

En la Figura 2, las paredes de un lado del pozo proyectan sombra sobre el fondo. Eratóstenes usó una sombra como ésta para calcular el perímetro de la Tierra. Cuando el sol estaba exactamente sobre Siena (al mediodía del 21 de junio), midió la sombra de un objeto en Alejandría. Conociendo el largo del objeto y el de su sombra y la distancia entre Siena y Alejandría calculó el perímetro terrestre. El valor que obtuvo es muy similar al conocido actualmente.

### **¿Cómo hizo Eratóstenes para determinar el perímetro terrestre?**

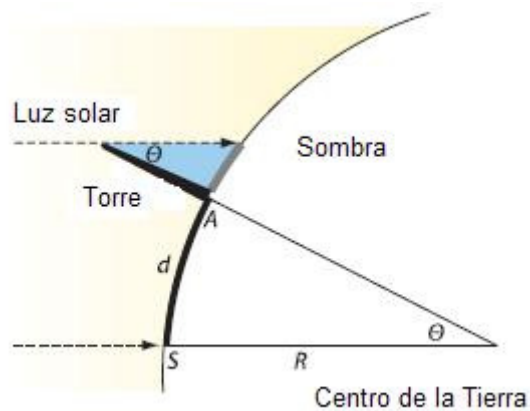
¿Cómo hizo Eratóstenes para medir el radio de la Tierra más de dos mil años atrás? Miren la Figura 3. Siena está representada por el punto S y Alejandría por el punto A, ambos puntos sobre la superficie de la Tierra a la que se ve como un círculo. En la Figura 3, la longitud de arco entre S y A es  $d$ , y el ángulo correspondiente a este arco es  $\theta$ . El radio de la Tierra es  $R$ . Supongamos que los rayos del sol llegan en forma paralela a la Tierra. La Figura 3 corresponde al momento en que el sol está justo sobre la ciudad de Siena. En ese caso, los rayos inciden perpendicularmente a la superficie de la Tierra en la ciudad de Siena, y por lo tanto tienen la misma dirección que el radio de la Tierra que une esta ciudad con el centro de la esfera terrestre (ver Figura 3).



*Figura 3:*

*El sol está exactamente sobre la ciudad de Siena (indicada con una S sobre la superficie de la Tierra). La ciudad de Alejandría está indicada con la letra A.*

Cuando el sol se encontraba exactamente sobre la ciudad de Siena, Eratóstenes midió la sombra de una torre en Alejandría, como se muestra en la Figura 4. Es decir, midió dicha sombra al mediodía del 21 de junio. La torre es perpendicular a la superficie de la Tierra en el punto A, y por lo tanto tiene la dirección del radio que une al centro terrestre con el punto A. Dado que todos los rayos del sol son paralelos entre sí, se deduce de la Figura 4 que el ángulo que forman los rayos con la torre es  $\theta$ , por ser alterno interno con el que subtiende el arco que une A con S.



*Figura 4:*

*La geometría del experimento de Eratóstenes. Midió la longitud de una torre y la de su sombra al mediodía del 21 de junio en Alejandría. Luego determinó el ángulo que formaban los rayos del sol con la vertical en esta ciudad. Este ángulo coincide con el que subtiende el arco de circunferencia que une las ciudades de Siena y Alejandría.*

Cuando uno está parado en un lugar llano sobre la superficie de la Tierra es difícil percibir su curvatura. Da la sensación de que, más allá de las rugosidades del terreno, uno se encuentra sobre una superficie plana. En cada lugar sobre la superficie de la Tierra, esa superficie plana sobre la que nos da la sensación que caminamos o sobre la que se proyectan las sombras de los distintos objetos, es perpendicular a la vertical en el lugar de la Tierra donde uno se encuentra. Por lo

tanto, la sombra de un objeto delgado en posición vertical (como la torre que midió Eratóstenes que se muestra en la Figura 4) y el objeto forman un ángulo recto entre sí. Si analizamos el experimento de Eratóstenes usando nociones de trigonometría (la que todavía no había sido descubierta en esa época) podemos describir la relación entre la altura de la torre, el largo de su sombra y el ángulo  $\theta$  como:

$$\text{tg}(\theta) = \text{largo de la sombra} / \text{altura de la torre.} \quad (1)$$

Conociendo la tangente del ángulo,  $\text{tg}(\theta)$ , y sabiendo que  $\theta$  es menor que  $90^\circ$ , podemos conocer el valor de  $\theta$ . Por otro lado, la proporción del perímetro total de la Tierra,  $P$ , que representa la longitud de arco,  $d$ , que une los puntos S (la ciudad de Siena) y A (la ciudad de Alejandría) sobre la superficie de la Tierra, es igual a la proporción que representa el ángulo  $\theta$  respecto del ángulo que da una vuelta entera,  $360^\circ$ . De aquí se deduce

$$d / P = \theta / 360 \quad (2)$$

y, reacomodando esta igualdad

$$P = 360 d / \theta \quad (3)$$

### **¿Cómo van a determinar ustedes el valor del radio de la Tierra?**

*En este proyecto les sugerimos que, en lugar de determinar el perímetro de la Tierra, determinen directamente su radio. De ese modo van a poder comparar de un modo más sencillo el valor medido por ustedes con el valor aceptado.*

Eratóstenes tuvo suerte porque conocía un lugar en donde el sol caía en forma exactamente vertical al mediodía. ¿Podrán ustedes hacer el experimento sin saber dónde hay un lugar así? Afortunadamente sí, como se muestra en las Figuras 5 y 6. Para ello, deberán colaborar con los chicos de otra escuela ubicada aproximadamente sobre el mismo meridiano que la escuela de ustedes, pero a una cierta distancia al norte o al sur (a la que llamamos  $d$ ) del lugar de su escuela. La coordinación del proyecto les dará la información de con qué escuela pueden colaborar y cuál es el valor de  $d$ . Una vez establecido con quien colaborarán, ustedes y los chicos de la escuela con la que colaboran deberán medir el largo y la sombra de una varilla o estaca y compartir el resultado de su medición. El ángulo que se necesita para hacer cálculos similares a los descritos en la sección anterior es en este caso la diferencia entre los ángulos calculados en cada escuela, como explicamos más adelante. Tienen que planificar de antemano cuándo van a medir y combinar con los chicos de la otra escuela. Idealmente, ambas escuelas deben hacer sus mediciones el mismo día.

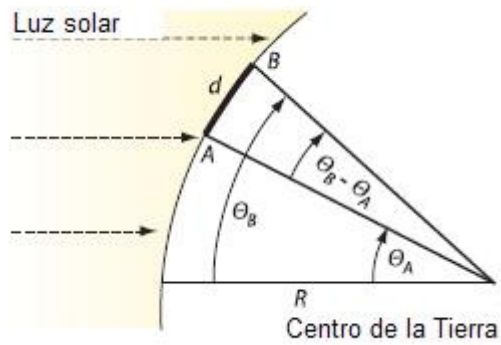


Figura 5:

La geometría para medir el radio de la Tierra usando datos de dos escuelas que colaboran entre sí en la realización del experimento. Las escuelas, ubicadas en los puntos A y B, están separadas por una distancia,  $d$ , en la dirección norte-sur. Los alumnos de cada escuela miden el ángulo que forman los rayos del sol con la vertical al mediodía en el lugar donde está su escuela. Llamamos a estos ángulos  $\theta_A$  y  $\theta_B$ . Idealmente, ambas escuelas deben medir este ángulo el mismo día.

En la Figura 5 los puntos A y B corresponden a la ubicación de las dos escuelas que colaboran entre sí. Estos dos puntos deben estar ubicados aproximadamente sobre un mismo meridiano terrestre, es decir, separados por una distancia norte-sur a la que llamamos  $d$  en la Figura 5. El experimento va a funcionar mejor cuanto mayor sea  $d$ . Miren la Figura 6. Los ángulos que es necesario determinar son  $\theta_A$  y  $\theta_B$ .

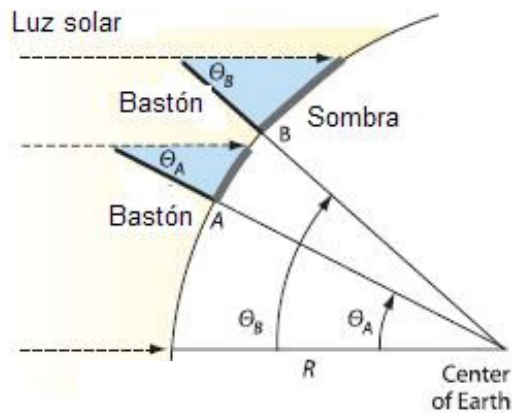


Figura 6:

La relación entre la dirección de los rayos del sol, las estacas y los dos ángulos,  $\theta_A$  y  $\theta_B$ .

Los chicos de la escuela ubicada en A miden la longitud de su varilla y la de la sombra que proyecta el día acordado con la otra escuela al mediodía. A partir de esa medición calculan la tangente del ángulo que forman los rayos del sol con la vertical,  $\theta_A$ , como explicamos antes:

$$\operatorname{tg}(\theta_A) = \text{largo de la sombra} / \text{largo de la varilla} \quad (4)$$

Los chicos de la escuela ubicada en B hacen lo mismo y calculan  $\theta_B$ .

Las Figuras 5 y 6 muestran que el ángulo que subtiende el arco que une los puntos A y B es la diferencia entre  $\theta_A$  y  $\theta_B$ . Por lo tanto, podemos usar la fórmula (3) reemplazando el perímetro, P, por su expresión en términos del radio,  $P = 2\pi R$  y teniendo en cuenta que en lugar del ángulo  $\theta$  debemos usar la diferencia  $\theta_B - \theta_A$ :

$$2\pi R = 360 d / (\theta_B - \theta_A). \quad (5)$$

Reacomodando los términos y simplificando obtenemos:

$$R = 180 d / \pi(\theta_B - \theta_A). \quad (6)$$

Nota: En toda la descripción anterior hemos supuesto que las dos escuelas se encuentran sobre el mismo meridiano. Si esto no es así, también pueden determinar el radio terrestre. En este caso la distancia d en las ecuaciones (5) y (6) no debe ser la distancia entre escuelas sino sólo la distancia norte-sur entre ellas. Una manera sencilla de determinar esta última es conocer la distancia entre cada escuela y el Ecuador (será provista por los organizadores en el momento de la inscripción de la escuela). Otra posibilidad es utilizar un mapa y medir sobre el mismo la distancia entre las latitudes correspondientes a las localidades de las dos escuelas. Este procedimiento puede realizarse también utilizando el Google Earth.

### **Haciendo la medición al mediodía exacto del lugar donde uno vive.**

Cualquiera sea el día del año del que se trate, el mediodía en el lugar donde uno se encuentra es el momento del día en el que el sol alcanza su altura máxima en el cielo. Para determinarlo, claven la varilla con la que harán la medición en el piso, sobre una madera o sobre un telgopor, asegurándose de que esté perfectamente vertical usando una plomada o un nivel de carpintero. Midan el largo de la parte de la varilla que no ha quedado bajo el piso. Cuando la mañana esté suficientemente avanzada, empiecen a medir la longitud de la sombra de la varilla a intervalos regulares. La sombra va a ir disminuyendo a medida que se acerque el mediodía y luego, comenzará a aumentar, cuando el mediodía ya haya pasado. La longitud más corta que hayan medido es el largo de la varilla que entra en la ecuación (4).

## GUIA PARA EL DOCENTE<sup>5</sup>

### Notas sobre la Introducción

En la discusión de las Figuras 1 y 2, en las que se muestran dos pozos ubicados en dos lugares distintos, estamos suponiendo lo siguiente:

- Los rayos del sol son paralelos entre sí (para más detalles, ver la sección siguiente)
- Las paredes del pozo son verticales.

### Notas sobre las suposiciones que tuvo que hacer Eratóstenes para calcular el perímetro de la Tierra

#### Acá están las suposiciones de Eratóstenes:

*La Tierra es una esfera.* En realidad, no es una esfera perfecta, sino que es más ancha en el Ecuador por alrededor del 3%, pero podemos despreciar esta pequeña diferencia en el radio medido en el Ecuador comparado con el valor que se puede obtener en otros lugares.

*El Sol está muy lejos.* Es por eso que los rayos solares que llegan a la Tierra son paralelos entre sí. Es verdad que el Sol está muy lejos, pero no es un punto: su diámetro es la centésima parte de la distancia entre el Sol y la Tierra.

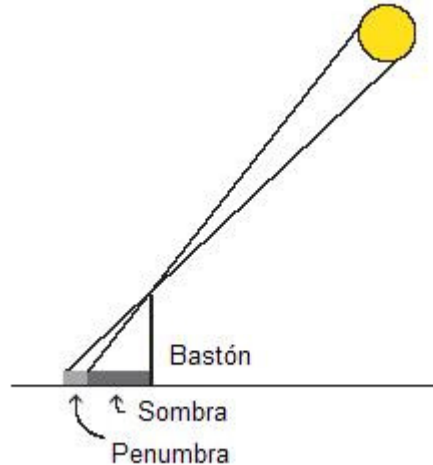


Figura 9:

*Notar la penumbra—la región parcialmente nublada—donde termina la sombra del bastón (el dibujo no está hecho a escala).*

Como se muestra en la Figura 9, hay una zona de penumbra donde termina la sombra de cualquier objeto, es decir, una zona que está parcialmente iluminada

---

<sup>5</sup> Adaptación para la Argentina del proyecto **WYP Eratosthenes Project** <http://www.physics2005.org/events/eratosthenes/> organizado en Estados Unidos en ocasión del año internacional de la física 2005.

por el Sol. Si la varilla con la que se hará la medición tiene 1 m de largo, la región de la penumbra será de largo mayor que 1 cm, lo que limita la precisión con la que se puede medir la longitud de la sombra. El tamaño de la penumbra aumenta con el tamaño de la varilla, por lo tanto, usar un palo más largo no ayuda a lograr una medición de mayor precisión.

*Alejandría está exactamente al norte de Siena:* Esta es sólo una aproximación. Busquen un atlas y comparen la ubicación de Alejandría y la de Aswan (construida donde antes estaba Siena).

El docente podría comentar con los alumnos las hipótesis de Eratóstenes teniendo en cuenta que hizo su medición hace más de dos mil años.

### **Notas sobre cómo se puede encontrar el radio de la Tierra.**

El docente puede pedir a los alumnos que discutan acerca de la distancia que debe separar a las dos escuelas que vayan a colaborar en la medición. ¿Es mejor que  $d$  sea grande o pequeña? (grande). ¿Por qué? (cuanto más grande  $d$ , mayor será el valor del ángulo  $\theta_B - \theta_A$  y por lo tanto, menor será el porcentaje de error de la medición). Una vez que la escuela obtiene la información de con qué otra escuela colaborará en la medición, el docente podrá mirar un mapa con los estudiantes y pedirles que calculen la distancia que separa ambas escuelas, midiendo en el mapa (y usando la escala del mapa). Podrá preguntarles también cuán bien alineadas en la dirección norte-sur están.

Es importante notar que la longitud de la sombra no cambia a lo largo del tiempo cerca del mediodía. Por esta razón, si uno no mide la sombra exactamente en el momento del mediodía el error que se puede cometer es pequeño. Es conveniente sugerir a los estudiantes que practiquen medir para identificar el mediodía unos días antes de hacer el experimento. Es conveniente que el docente trate de medir la sombra por su cuenta, controlando que, efectivamente, la varilla esté lo más vertical posible. Para ello, se puede pegar una hoja de papel sobre el cartón, revisando con el nivel de carpintero que el cartón esté horizontal. Es necesario asegurarse de que la varilla no sea tan alta que su sombra termine fuera de los límites del cartón. La longitud de la varilla que es necesario medir es la que va desde el extremo superior de la misma hasta la superficie donde se ve la sombra.

## Referencias

**WYP Eratosthenes Project (Proyecto Eratóstenes del año mundial de la física).**

<http://www.physics2005.org/events/eratosthenes/>

**Center for Improved Engineering and Science Education (Centro para el mejoramiento de la educación en ingeniería y ciencia)**

<http://www.k12science.org/noonday/askanexpert.html>

**NASA**

[http://heasarc.gsfc.nasa.gov/docs/cosmic/earth\\_info.html](http://heasarc.gsfc.nasa.gov/docs/cosmic/earth_info.html)

**University of California, Berkeley (Universidad de California en Berkeley)**

<http://astron.berkeley.edu/~krumholz/sq/astro/class1.txt>

**U.S. Naval Observatory (Observatorio Naval de los Estados Unidos)**

Time of local noon ("sun transit")

[http://aa.usno.navy.mil/data/docs/RS\\_OneDay.html](http://aa.usno.navy.mil/data/docs/RS_OneDay.html)

**Departamento de Física, FCEyN, UBA. Área de Difusión.**

[http://difusion.df.uba.ar/joomla/index.php?option=com\\_content&task=view&id=40&Itemid=37](http://difusion.df.uba.ar/joomla/index.php?option=com_content&task=view&id=40&Itemid=37)

**Nodo Nacional Argentino del Año Internacional de la Astronomía 2009.**

<http://www.astronomia2009.org.ar/actividades-propuestas-por-el-nodo/proyecto-eratostenes-medicion-del-diametro-de-la/?searchterm=eratostenes>